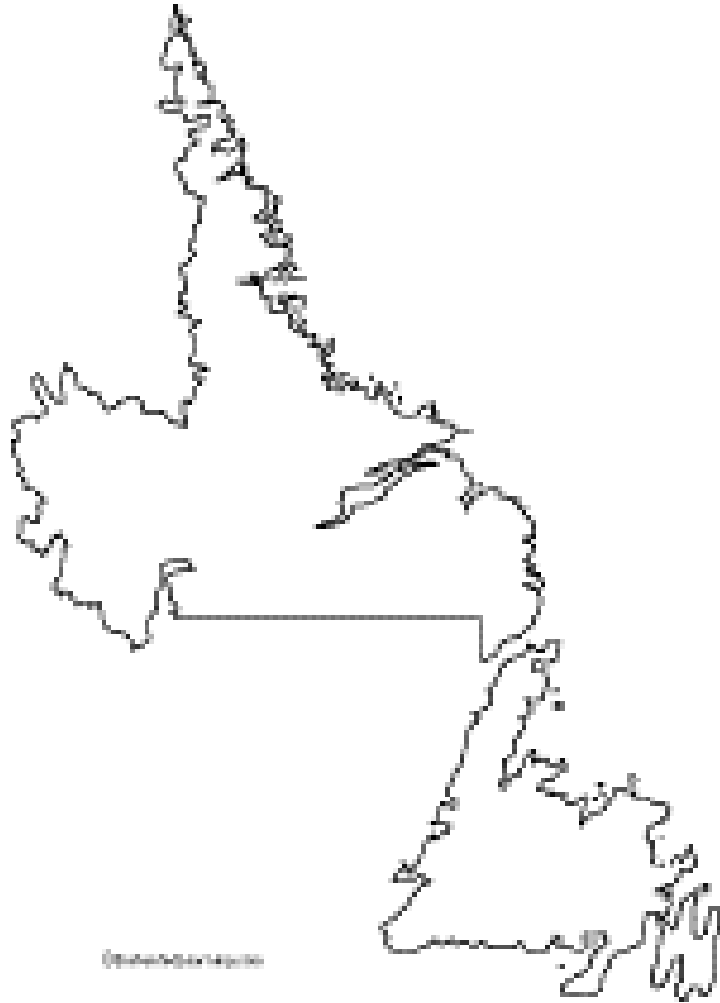


Sciences humaines 8



Voyage
de découvertes

Une carte de Terre-Neuve et Labrador



La carte de Terre-Neuve

L'Île de Terre-Neuve

Des villes et des points de repères géographiques



Le ferry-boat North Sydney – Port-aux-Basques

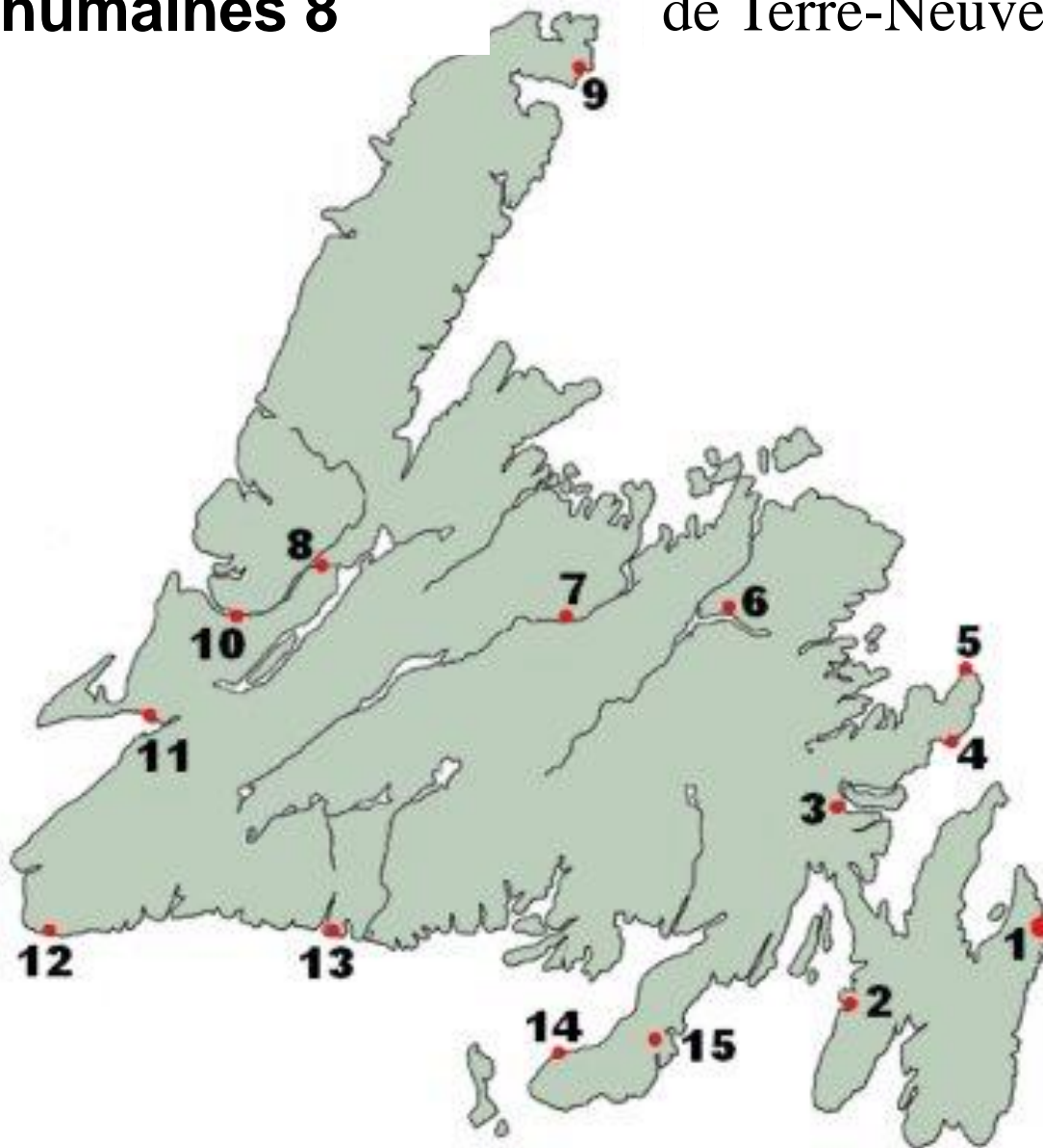
Le ferry-boat North Sydney – Argentina

La carte de Labrador



Sciences humaines 8

Les communautés de Terre-Neuve



1. _____
2. _____
3. _____
4. _____
5. _____
6. _____
7. _____
8. _____
9. _____
10. _____
11. _____
12. _____
13. _____
14. _____
15. _____

Sciences humaines 8

Les communautés
de Labrador



1. _____
2. _____
3. _____
4. _____
5. _____
6. _____
7. _____
8. _____
9. _____
10. _____
11. _____
12. _____

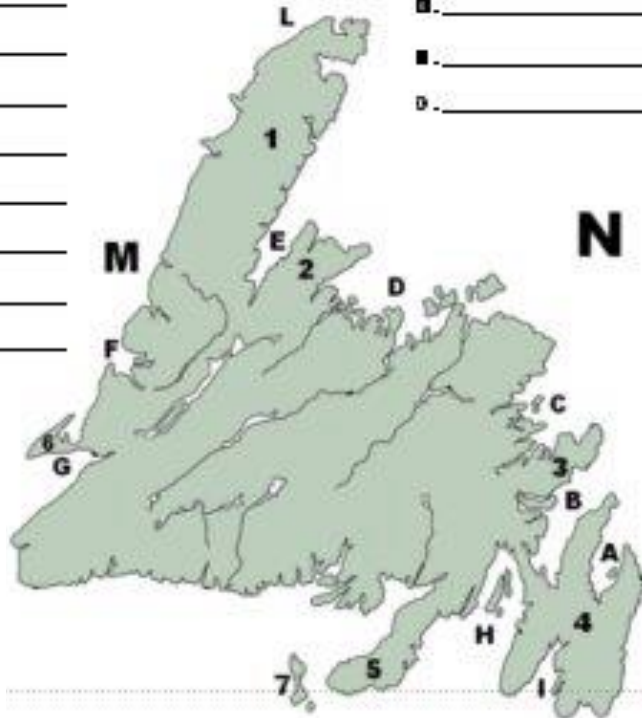
Sciences humaines 8

Les formes de relief
et les formes d'eau de
Terre-Neuve et Labrador



- A. _____
- B. _____
- C. _____
- D. _____
- E. _____
- F. _____
- G. _____
- H. _____
- I. _____
- J. _____
- K. _____
- L. _____
- M. _____
- N. _____
- O. _____

- 1. _____
- 2. _____
- 3. _____
- 4. _____
- 5. _____
- 6. _____
- 7. _____
- 8. _____



A – K sont des BAIES

L est un DÉTROIT

M est un GOLFE

N est un OCÉAN

O est un LAC

1 – 6 sont des PÉNINSULES

7 est une ÎLE

8 est un CAP

Il y a un
problème
sérieux avec
cette carte.
Quel est le
problème?