


Sciences Humaines 7^e année

UNITÉ 1: S'ORIENTER SUR LA CARTE DU CANADA



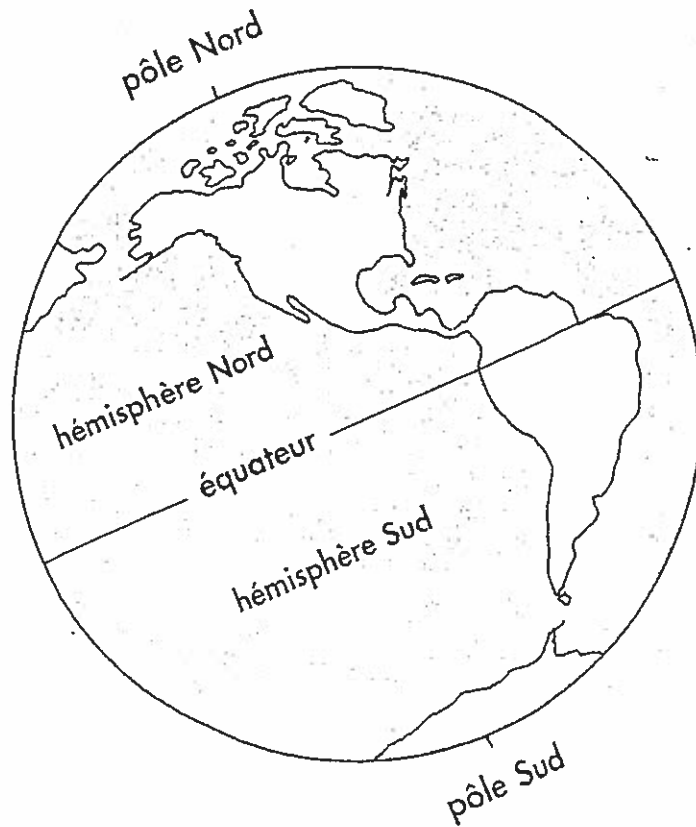
NOM: _____

CLASSE: _____

LA TERRE : UN MODÈLE

Le globe terrestre présente un modèle de la terre. Le globe terrestre est rond comme une balle ou une sphère et ce, tout comme la terre.

La ligne centrale qui entoure le globe terrestre se nomme l'équateur. Cet ancien mot latin signifie « diviser également ». Sur le globe terrestre, l'équateur divise la terre en deux hémisphères (demi-sphères). L'hémisphère Nord est situé au nord de l'équateur tandis que l'hémisphère Sud est situé au sud de l'équateur.



Associe le mot à sa définition en tirant un trait.

- | | |
|--------------------|--|
| 1. équateur | A. Moitié de la terre située au nord de l'équateur |
| 2. hémisphère Nord | B. Moitié de la terre située au sud de l'équateur |
| 3. pôle Nord | C. Point le plus au sud de la terre |
| 4. sphère | D. Ligne centrale autour de la terre |
| 5. hémisphère Sud | E. Objet de la forme d'une balle |
| 6. pôle Sud | F. Point le plus au nord de la terre |

S'ORIENTER SUR UNE CARTE

Examine la partie inférieure de la CARTE DU CANADA.
Trouve le symbole cartographique qui ressemble à ceci :
C'est semblable à une boussole et ce symbole se nomme
une rose des vents.



1. La rose des vents indique les quatre directions principales sur la carte. Ces directions sont :

N _____ S _____ E _____ O _____

2. La direction _____ pointe vers la partie supérieure de la carte.
3. La direction _____ pointe vers la partie inférieure de la carte.
4. La direction _____ pointe vers la partie droite de la carte.
5. La direction _____ pointe vers la partie gauche de la carte.
6. Place ces quatre directions sur la rose des vents ci-dessus.

Complète chaque phrase en utilisant ces expressions :

au nord au sud à l'est à l'ouest

Utilise la CARTE DU CANADA pour t'aider.

1. Nunavut est _____ du Manitoba.
2. L'Ontario est _____ du Manitoba.
3. L'Alberta est _____ du Manitoba.
4. Terre-Neuve est _____ de l'Alberta.
5. Québec est _____ de Terre-Neuve.
6. Winnipeg est _____ de Vancouver.
7. Calgary est _____ de Yellowknife.
8. La baie d'Hudson est _____ du la baie James.
9. La baie d'Hudson est _____ de l'île de Baffin.
10. Iqaluit est _____ de Montréal.

LA MAPPEMONDE

De vastes étendues de terre et d'eau recouvrent le monde.

Un continent est une grande étendue de terre. Il y sept continents dans le monde :

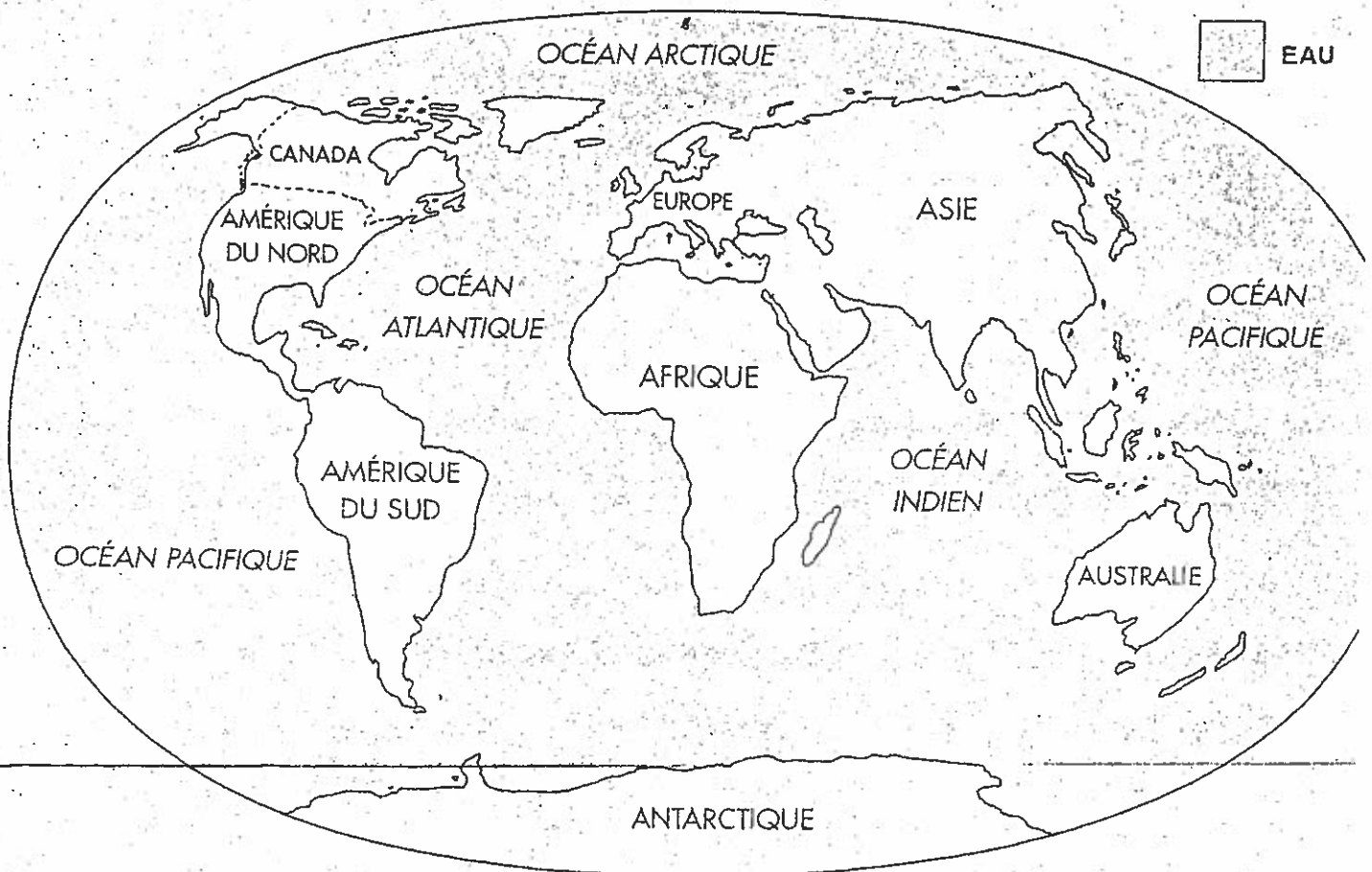

1. _____
2. _____
3. _____
4. _____
5. _____
6. _____
7. _____

Un océan est une grande étendue d'eau salée.

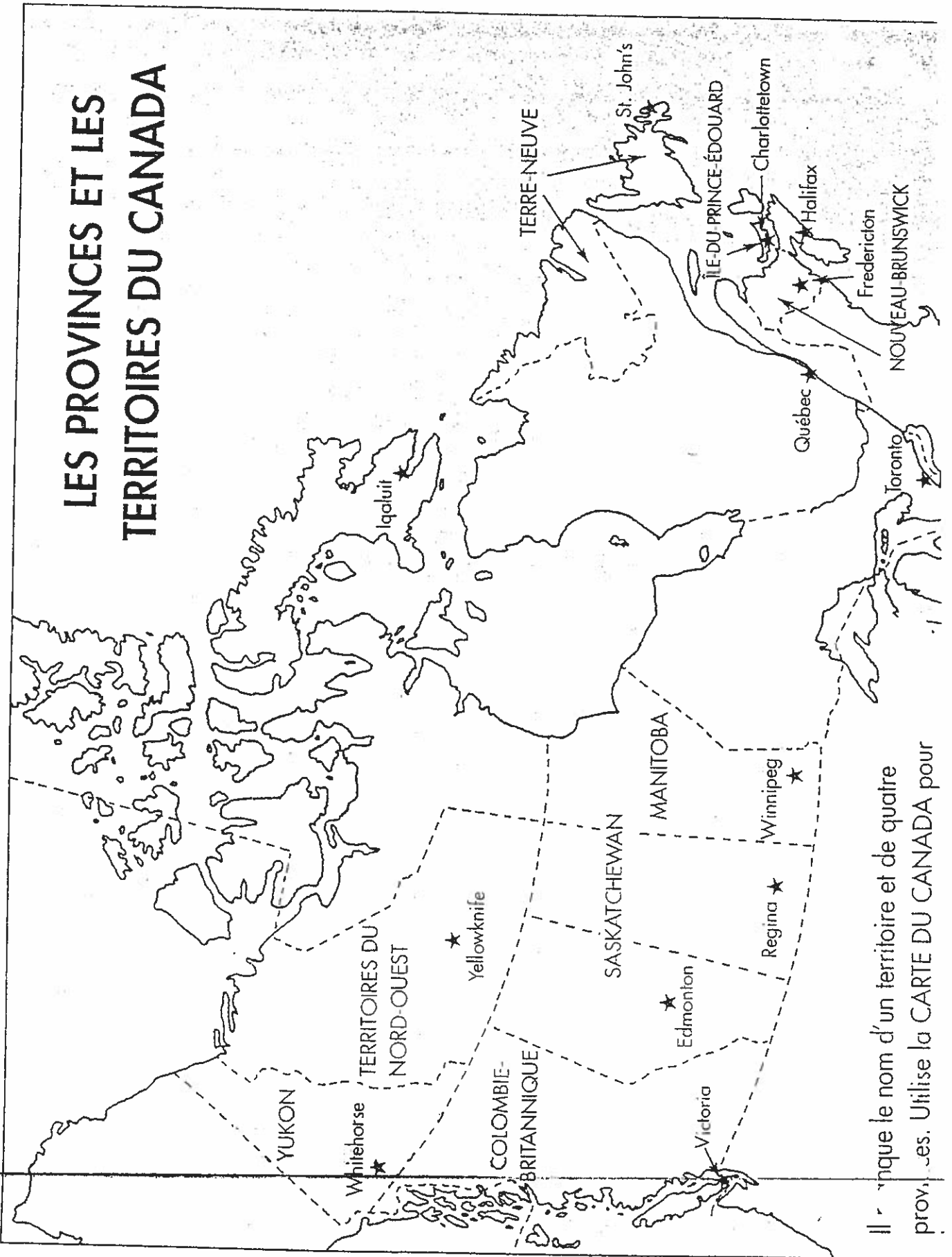
Il y a quatre océans dans le monde :

1. _____
2. _____
3. _____
4. _____

Colorie chaque continent d'une couleur différente.

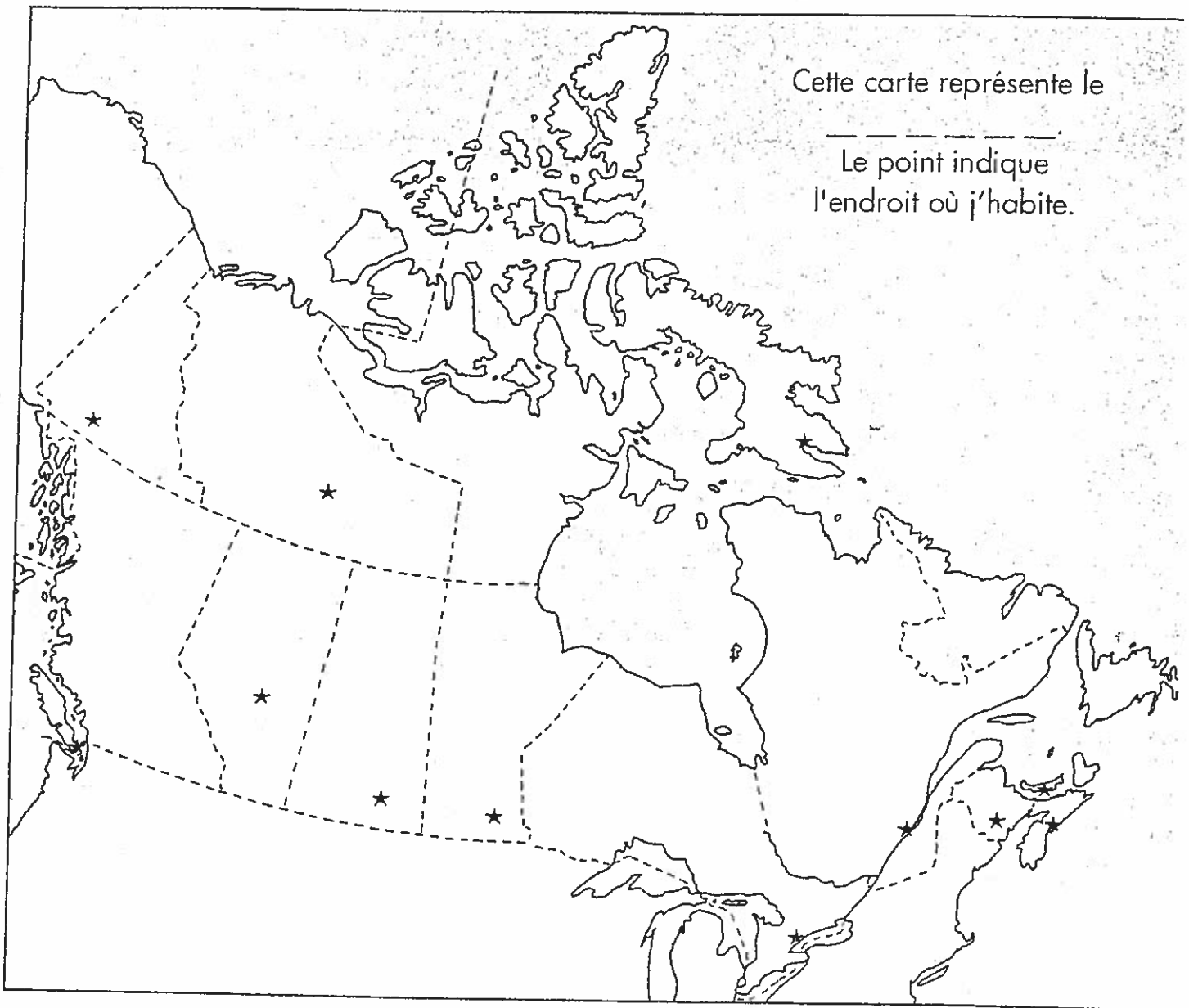


LES PROVINCES ET LES TERRITOIRES DU CANADA



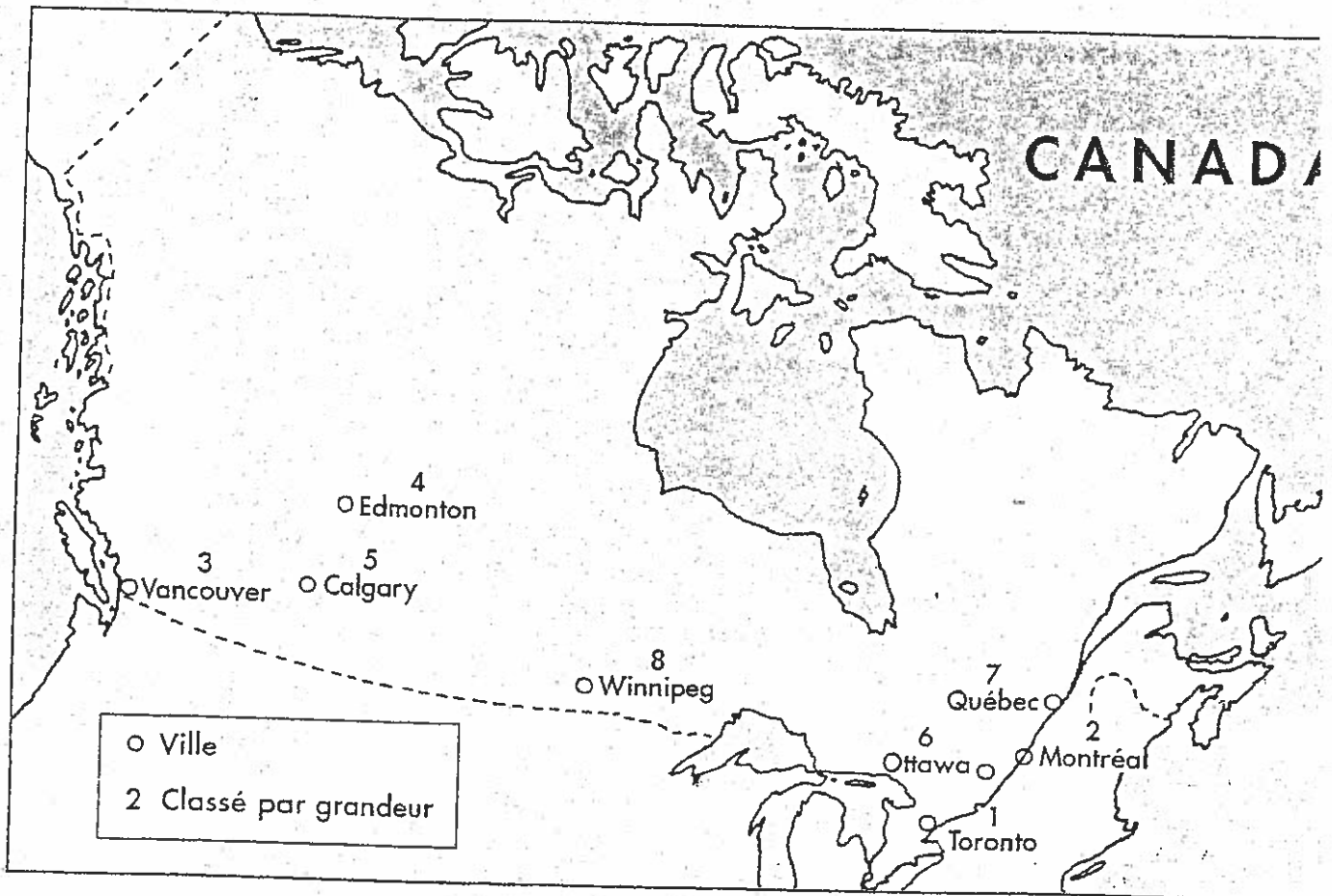
Il y a dix provinces et de quatre territoires. Utilise la CARTE DU CANADA pour les nommer.

J'HABITE AU CANADA



1. Mon nom est _____
2. J'habite à _____
(ville ou village)
3. C'est (en, à, au) _____
(province ou territoire)
4. Indique sur la carte l'endroit où tu habites en faisant un point en couleur. _____
5. Imprime le nom de ta province ou de ton territoire sur la carte.
6. Colorie ta province ou ton territoire.

LES PLUS GRANDES VILLES DU CANADA



Utilise la carte ci-dessus et la CARTE DU CANADA pour compléter l'histoire.

La plus grande ville du Canada est _____. Elle est aussi la capitale de l'_____. La deuxième plus grande ville est _____. Elle est située dans la province de _____. Plus d'un million d'habitants habitent dans chacune de ces deux villes.

La troisième plus grande ville est _____ dans la province de la _____. La quatrième plus grande ville est _____. La cinquième plus grande ville est _____. Ces deux villes sont dans la province de l'_____. _____ est la sixième plus grande ville et elle est la capitale du _____. La septième plus grande ville est _____ est la huitième plus grande ville du Canada et elle est la capitale du _____.

Le Canada, d'un océan à l'autre

As-tu envie d'explorer ce grand pays qu'est le Canada? Tu es d'accord!
La carte et les activités ci-dessous vont te permettre de satisfaire ton
goût de l'exploration.

1. Le Canada est divisé en provinces et en territoires. Écris le nom de ces divisions politiques ainsi que la capitale de chacune.

Province

Capitale

Territoire

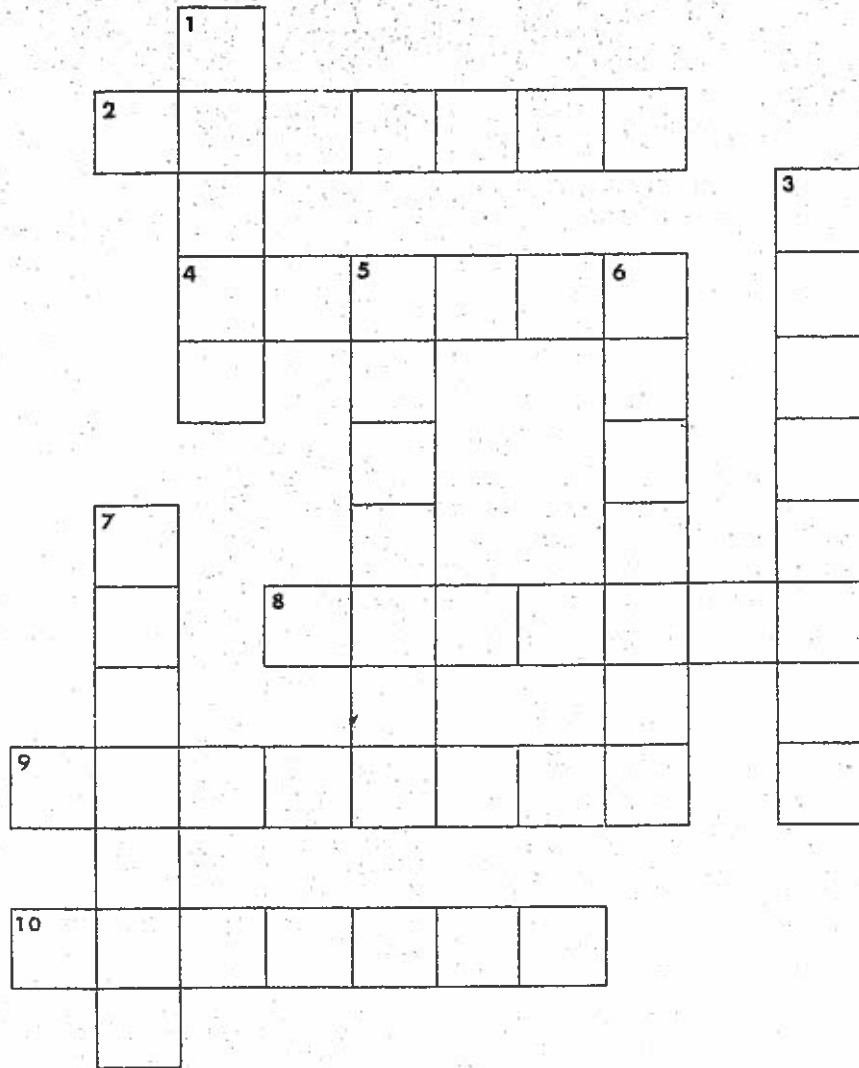
Capitale

2. Qui suis-je? Au Canada, je suis
- a) la plus grande province en superficie _____
 - b) la plus petite province en superficie _____
 - c) le plus petit territoire en superficie _____
 - d) la plus grande baie _____
 - e) la plus haute montagne _____
 - f) le plus grand lac _____
 - g) la plus grande île _____
 - h) le plus long fleuve _____
 - i) la ville la plus peuplée _____

3. Identifie les provinces où coule le fleuve Saint-Laurent.

DES MOTS CROISÉS DU CANADA

Remplis les mots croisés à l'aide de la CARTE DU CANADA.



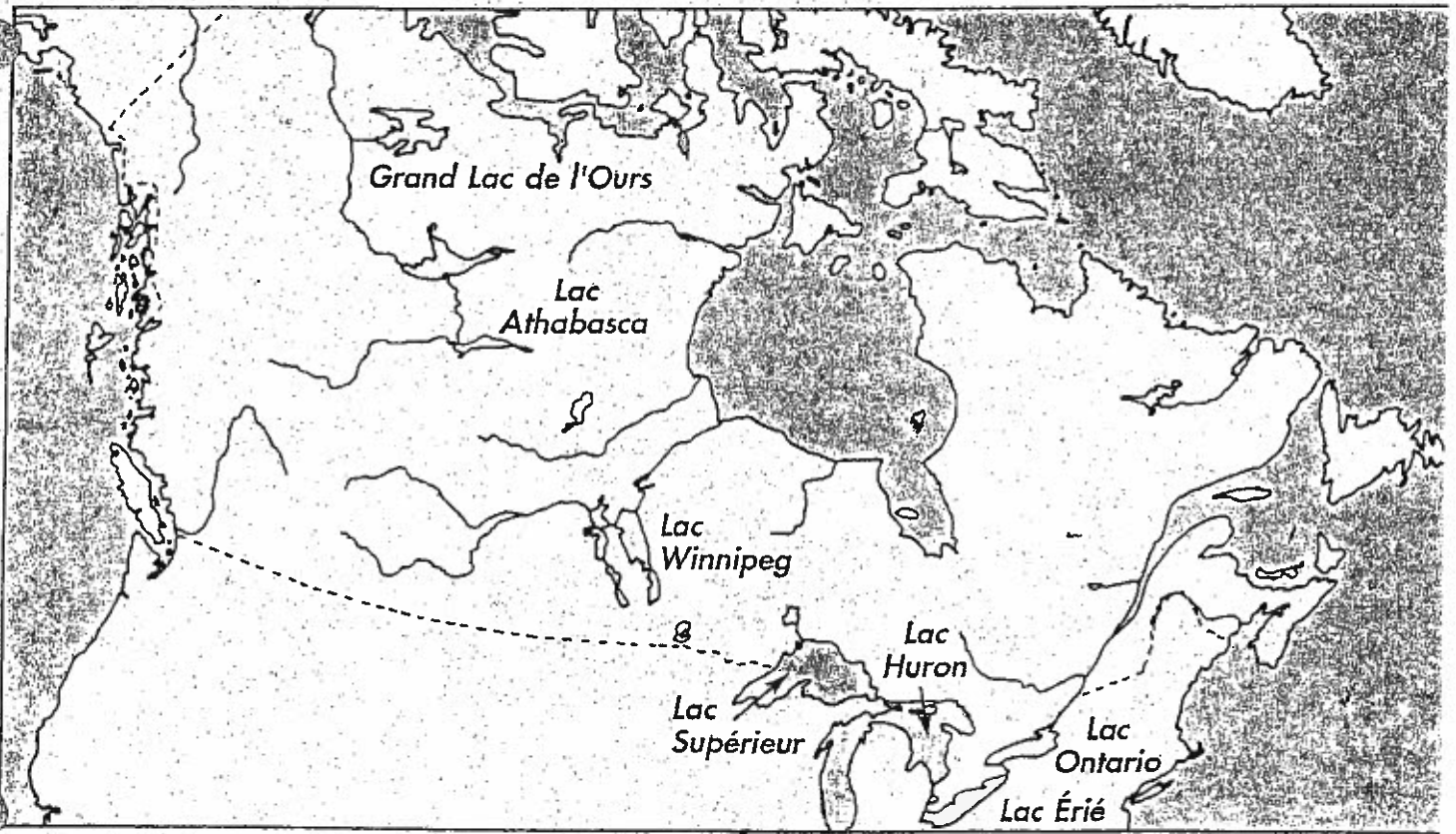
HORIZONTALEMENT

2. Plus grand territoire du Canada
4. Capitale du Canada
8. Province entre le Manitoba et le Québec
9. Capitale de la Colombie-Britannique
10. Ville située au sud de l'Alberta

VERTICALEMENT

1. Plus petit territoire du Canada
3. Province entre la Saskatchewan et l'Ontario
5. Capitale de l'Ontario
6. Province près de la Colombie-Britannique
7. Capitale de la Nouvelle-Écosse

DES MOTS CACHÉS



1. La carte montre l'emplacement de sept grands lacs au Canada.
2. Leur nom est caché dans le casse-tête. Trouve chaque nom et encercle-le.

B	W	I	N	N	I	P	E	G	N
S	E	X	U	E	I	L	G	O	A
G	U	R	W	A	B	I	R	C	O
Y	E	P	I	U	O	U	S	L	N
E	I	R	E	E	H	A	N	D	T
C	L	A	P	R	B	F	R	Q	A
X	A	N	S	A	I	P	D	B	R
P	R	R	H	R	F	E	H	R	I
L	U	T	K	D	R	G	U	J	O
O	A	H	K	Y	A	O	Y	R	V

LES LACS ET LES RIVIÈRES CACHÉS

Utilise la CARTE DU CANADA pour trouver le nom de ces lacs et de ces rivières.
Imprime le nom sur chaque carte.

